

全國公私立高級中學

101 學年度指定科目第五次聯合模擬考試

考試日期：102 年 3 月 4~5 日

公民與社會考科

—作答注意事項—

考試時間：80 分鐘

作答方式：

- 選擇題用 2B 鉛筆在「答案卡」上作答；更正時，應以橡皮擦擦拭，切勿使用修正液(帶)。
- 未依規定畫記答案卡，致機器掃描無法辨識答案者，其後果由考生自行承擔。

一、單選題(占78分)

說明：第1題至第39題，每題有4個選項，其中只有一個是正確或最適當的選項，請畫記在答案卡之「選擇題答案區」。各題答對者，得2分；答錯、未作答或畫記多於一個選項者，該題以零分計算。

1. 在米德的自我認知的發展研究理論中，他使用何種名詞來代表在發展期間，對自己有重大影響力的人，這些人可能是父母、老師或同學、初級團體或同儕團體中的知心朋友？
(A) 主我 (B) 客我 (C) 重要他人 (D) 概化他人
2. 早期台灣社會的女性，由於整個社會經濟狀況不佳，再加上重男輕女的觀念影響，往往放棄就學機會而到工廠當女工，賺錢回家給兄弟作為教育費用，形成現在中高齡婦女的低學歷現象。而「受教育權」屬於何種人權的範疇？
(A) 參政權 (B) 經濟權 (C) 社會權 (D) 環境權
3. 18世紀的英國倫敦社會中，咖啡店成為藝術和文學的批判中心，並逐漸擴大到對經濟或政治事件的批評；而在法國的沙龍，一件新的作品、書、音樂等也必須在沙龍中獲得肯定；因此咖啡店與沙龍已成為一個公開討論觀點的平台，此平台符合德國哈伯瑪斯所提出的何種論點？
(A) 公共領域 (B) 公民社會 (C) 公共事務 (D) 公共權力機關
4. 富邦金控董座蔡明忠有沒有捐錢給馬英九？國內三大報紙的標題都不同(如下)，你將發現看不同的報紙會看到不同的「事實」。陳順孝教授認為這是因為台灣媒體刻意裝瞎，不細察事情全貌，只擷取符合自己立場的片段事實來打擊異己的結果。因此身為閱聽人的我們，應該加強何種能力？

聯合報：「富邦金控董座蔡明忠：馬沒拿我們的錢」
中國時報：「2008年捐馬1500萬？蔡明忠：馬英九拒收」
自由時報：「審判筆錄、判決書明載，綠：富邦捐國民黨1500萬白紙黑字」

(A) 媒體倫理 (B) 媒體自律 (C) 新聞編輯 (D) 媒體識讀
5. 台灣社會的合法外勞常常處於沒得談判的勞動條件之下，受不了而逃跑者就成了脫逃外勞，脫逃外勞找到新雇主後，反而有更優渥的勞動條件，找到更高的薪水與工作環境，這些現象主要顯示出我國目前在哪一方面所遭遇的問題？
(A) 全球在地化 (B) 文化水準的低落
(C) 國際移工的權利 (D) 全球公民意識的實踐
6. 1940年法國戴高樂將軍在倫敦宣布成立自由法國政府，以對抗納粹；1959年達賴喇嘛在印度成立西藏流亡政府，兩者均獲許多國家的承認，下列相關敘述何者正確？
(A) 西藏流亡政府對西藏不具有實際的統治權
(B) 政府是國家的最高權力，對內享有統治權
(C) 此承認是認同其具有國家構成要素「人民」
(D) 國家可以在沒有領土、人民、主權、政府的情況下，單獨存在

7. 公共政策是政府機關為解決公共問題或滿足民眾需求，決定作為或不作為、如何作為的行動；下列有關公共政策決策過程的敘述，何者正確？
- (A) 啟動政策規劃：人民產生需求，民代提出問題
 - (B) 政策的執行：對公共政策的效果做出鑑定和估量
 - (C) 政策的合法化：經民意機關的立法背書和社會大眾的認可
 - (D) 形成政策問題：政策目標的確立，並經媒體大肆報導宣傳
8. 現代民主國家中，利益團體常發揮影響政策制定的能力，而有關利益團體的敘述，何者正確？
- (A) 其與政府的關係密切時，常被忽略其主張
 - (B) 是民主政治的產物，是人民結社權的展現
 - (C) 其運作與主張，必然是顧及社會大眾的權益
 - (D) 無法透過選票來影響行政官員或民代對其訴求的重視
9. 除了總統、副總統的選舉外，其餘各項公職人員選舉均依公職人員選舉罷免法辦理，其中哪一項民意代表的選舉是採取單一選區相對多數決制？
- (A) 區域立委
 - (B) 原住民立委
 - (C) 直轄市議員
 - (D) 鄉鎮市民代表
10. 想買玩具卻得不到媽媽同意的小孩，在玩具店前賴地不走、嚎啕大哭，此時他正處於皮亞傑「道德認知發展理論」的哪一階段？
- (A) 無律
 - (B) 他律
 - (C) 自律
 - (D) 練習律
11. 實體法與程序法的分類，有時無法以整部法來區分，必須從個別法條來觀察，下列何者屬於實體法？
- (A) 民法第 30 條：「法人非經向主管機關登記，不得成立。」
 - (B) 行政訴訟法第 58 條：「當事人、法定代理人、代表人、管理人或訴訟代理人應於書狀內簽名或蓋章；其以指印代簽名者，應由他人代書姓名，記明其事由並簽名。」
 - (C) 民法第 179 條：「無法律上之原因而受利益，致他人受損害者，應返還其利益。雖有法律上之原因，而其後已不存在者，亦同。」
 - (D) 民法第 804 條：「依前條第一項為通知或依第二項由公共場所之管理機關、團體或其負責人、管理人為招領後，有受領權之人未於相當期間認領時，拾得人或招領人應將拾得物交存於警察或自治機關。警察或自治機關認原招領之處所或方法不適當時，得再為招領之。」
12. 惡法是指不符合憲政主義規範下法律應有的正當性、合理性，而下列何者是惡法非法的觀點？
- (A) 強調社會秩序
 - (B) 重視執法與守法
 - (C) 主張透過立法程序修法
 - (D) 強調法律的內涵須符合正義
13. 警察在逮捕嫌犯時，如果嫌犯不抵抗，警方就不採取壓制的手段進行逮捕，而僅將嫌犯上銬帶走，請問警方的手段主要是符合哪一原則？
- (A) 平等原則
 - (B) 比例原則
 - (C) 法律優位原則
 - (D) 法律保留原則

14. 法人屬於民法中的權利主體，法人包括公法人、私法人與行政法人，而行政法人的資金來源是國家的預算，並且不再以國家考試的方式進用人員，組織採合議制，設有董事會與監事會，定期召開會議，讓領導與執行專業化，也保障專業人員的權益。而目前我國符合行政法人資格的機關，應為下列何者？
- (A) 行政院文化部 (B) 財團法人奇美醫院
(C) 國立中正文化中心 (D) 社團法人世界和平會
15. 刑事案件的被告，經法院為有罪判決後交付執行。有關刑罰執行的相關敘述何者正確？
- (A) 法官依刑事訴訟法，指揮執行該判決
(B) 執行的內容，是依檢察官的自由心證而定
(C) 受1年以下有期徒刑或拘役者，得聲請易服社會勞動
(D) 受刑人覺得檢察官的指揮執行不當，得以書面向法院表示不服
16. 志明借給春嬌 100 萬元，約定一年後無息歸還；一年後春嬌表示無能力付 100 萬元，在與志明協商後，志明同意春嬌若在 7 日內給付 70 萬元，債務就算清償。但是春嬌仍未依約還錢，下列相關敘述何者正確？
- (A) 志明和春嬌的協商，屬於訴訟外的調解
(B) 此協商因未簽訂書面，因此不具法律效力
(C) 志明可依協商內容，向法院聲請強制執行
(D) 志明必須向法院提出訴訟，請求春嬌履行和解契約
17. 唐小姐是茶農，在其他條件不變下，茶葉的價格與數量之間的關係為何？
- (A) 茶葉價格上漲，會造成供給減少
(B) 茶葉價格下跌，會造成供給減少
(C) 茶葉價格上漲，會造成供給量增加
(D) 茶葉價格下跌，會造成供給量增加
18. 在自由貿易之下，各國均會選擇具有比較利益的產品來專業化生產出口，同時從國外進口較不具比較利益的產品，而有關進出口國在自由貿易後的利得與損失，何者正確？
- (A) 出口國的消費者剩餘減少，總剩餘減少
(B) 出口國的生產者剩餘減少，總剩餘減少
(C) 進口國的消費者剩餘增加，總剩餘增加
(D) 進口國的生產者剩餘增加，總剩餘增加
19. 國民生產總值(Gross National Product，簡稱 GNP)，是指一國之國民一年內所生產的最終產品的市場價值的總和，是國民收入核算中最重要的組成部分，而下列何者將計入該年度國民生產毛額中？
- (A) 賣給小吃店做成牛肉麵的麵條
(B) 買回家煮成麻油雞的跑山雞隻
(C) 家庭主婦的煮飯、掃地、洗衣
(D) 在古董拍賣場買了清朝的盜器

20. 到海邊玩水時，許多人會擦防曬商品，卻不知防曬商品是造成珊瑚白化的主因之一，因此產生外部成本。而下列何者產生外部成本的原因，與此案例相同？
- (A) 林地由國人所共有，卻因有人濫墾而造成水土保持功能喪失
 - (B) 早期台南北門的居民飲用深井水，因井水含砷而罹患烏腳病
 - (C) 工廠大火造成附近農作物的農損，農民要求工廠進行賠償
 - (D) 海洋中的鯊魚，被各國漁船濫捕，而造成漁源枯竭的現象
21. 智庫百科從定義來對公共利益的界定如下：「公共利益是指域內公民總體最基本的共同需要。」而下列何者符合公共利益的內涵？
- (A) 公共利益著眼不同層次的利益，因此不需要經過辯論的過程
 - (B) 利益是指社會大眾持有的正面價值判斷，沒有絕對的具體內容
 - (C) 公共是指特定的社會大眾的利益，具有特定身分的個人才能受益
 - (D) 公共利益是全民性的，是絕對的多數，因此社會福利津貼不是公共利益
22. 西方哲學家提出許多見解，來做為衡量公共利益的標準，而全民健保的實施，使全民接受良好醫療照護，不會因經濟困境而延誤就醫，以顯示全民健保對弱勢者的照顧，從照顧弱勢的角度來檢視健保，其最符合哪一理論？
- (A) 社群主義
 - (B) 古典自由主義
 - (C) 理性自利主義
 - (D) 社會正義主義
23. 語言是由一套象徵符號與規則組合而成的，具有意義且複雜的系統，而語言與文化之間的關係為何？
- (A) 語言僅是傳承文化的媒介，不是了解文化的重要工具
 - (B) 語言可以反映社會文化結構，但無法影響個人的價值觀
 - (C) 透過語言可以表達出該文化的重心，並傳遞文化中的生活經驗
 - (D) 社會成員會透過語言來進行溝通互動，不存在學習社會文化的功能
24. 在工業化之後，文化藉由科技的被大量製造，藉由傳播被大量發送，因此誕生了具有標準化、易於複製的文化類型，此種文化較淺顯易懂，常結合商業行為，引發大量消費的特性，此種文化應為下列何者？
- (A) 廟口歌仔戲的民間文化
 - (B) 電影、電視、網路的大眾文化
 - (C) 法國凡爾賽宮為代表的精緻文化
 - (D) 台北市政府舉辦漢字文化節的官方文化
25. 在民意政治原則下，為鞏固民意基礎，政府必須鼓勵公共參與，而下列何者是民意政治的實現？
- (A) 政府積極立法保障每個人的自由與人權
 - (B) 違法濫權的掌政者，必須接受司法調查
 - (C) 國家要限制個人自由，必須有法源依據
 - (D) 每位公民均有相同機會，來參與政治決策的過程

26. 薩孟武教授點出：「立法者束縛於法律之內，立法權不是專制獨裁的工具，這種用法以限制國家機關的活動，稱為法治政治」。而有關法治政治的相關敘述何者正確？
- (A) 政府落實普遍性的公民身分
 - (B) 掌握行政權者，要對違反民意的行為負責
 - (C) 透過定期改選，表達民意，更換不適的執政者
 - (D) 政府官員的權力要有合法的基礎，權力來自法律授予
27. 憲政主義又稱為立憲制度、憲政之治，其具有何種涵義？
- (A) 以憲法來保障人民的自由權利
 - (B) 建構一個權力受節制的萬能政府
 - (C) 在憲法中將政府權力集中，不再分權制衡
 - (D) 擁有憲法法典的國家，就是憲政主義國家
28. 1987 年政府開放國人赴中國探親，並從事各項活動，而目前我國制定大陸政策的主要信念，是下列何者？
- (A) 誰是中國的正統之爭
 - (B) 以台灣優先，人民為主
 - (C) 誰合法代表中國的主權之爭
 - (D) 認同一個中國，在92共識的基礎之上
29. 中國近年來積極提倡對台的和平統一，但是對台的飛彈佈署數量卻是持續增加，我國政府為了解決國人的心理威脅，便採取哪一行動？
- (A) 加強對美軍購
 - (B) 強調以經促統政策
 - (C) 兩岸進行政治性的協商
 - (D) 採募兵制來提升國軍素質
30. 林東茂教授指出：「刑法是惡緣處理」，而有關刑法的意義，何者正確？
- (A) 刑法的分則是規定犯罪行為的基本原則及要件
 - (B) 刑法的內容包括刑法、刑事訴訟法、陸海空軍刑法
 - (C) 刑法是規定何種行為是犯罪，而以私權力施以刑罰制裁
 - (D) 當行為人的行為侵犯刑法所保障的法益，就構成犯罪行為
31. 在 1999 年刑法未修訂前，強姦罪只針對女性被害人，男性被害人則不受刑法的保障，這是受制於刑法的「罪刑法定主義」何項原則規範的結果？
- (A) 禁止習慣法
 - (B) 禁止類推原則
 - (C) 禁止溯及既往原則
 - (D) 禁止絕對不定期刑

32-33 題為題組

2012 年 11 月美國舉行總統大選，歐巴馬連任成功。2012 年 5 月法國總統薩柯奇競選連任失利，成為第五共和成立以來第一位未能連任成功的總統。2010 年 5 月英國舉行國會大選，在野的保守黨贏得選舉，但未達單獨執政的席次，因此便和第三大黨自民黨，組成聯合政府。請問：

32. 法國總統、美國總統、英國首相，哪些擁有解散國會的權力？
- (A) 英、法
 - (B) 美、法
 - (C) 英、美
 - (D) 法、美、英

33. 我國總統的職權與各國的比較，何者正確？
- (A) 擁有公布法令權，與英國首相相同
 - (B) 必須身兼三軍統帥，與美國總統相同
 - (C) 掌國家的對內行政權(內政權)，與法國總統相同
 - (D) 任命行政院長，須經立法院同意，與美國總統相同

34-35 題為題組

在社會快速變遷下，道德體系也產生重大變化，在多元開放的社會中，不同的道德標準存在且被社會大眾接受，呈現出道德的多元觀。

34. 明宏看到被黑道追殺者逃入暗巷，因為認為說謊是不道德的，因此回答黑道的詢問，造成被追殺者遭殺害，請問明宏的道德觀較傾向下列何者？
- (A) 道德多元論
 - (B) 道德絕對論
 - (C) 道德相對論
 - (D) 道德主觀論
35. 核電廠的存廢常引起兩極看法，贊成興建者認為，核電廠能提供大量廉價電力，且發電過程安全，雖會產生廢水及核廢料汙染環境，但是伴隨來的經濟發展卻為人們帶來便利舒適的生活，因此值得興建；此主張符合道德判斷的哪一理論？
- (A) 效益論
 - (B) 義務論
 - (C) 德行論
 - (D) 道德絕對論

36-37 題為題組

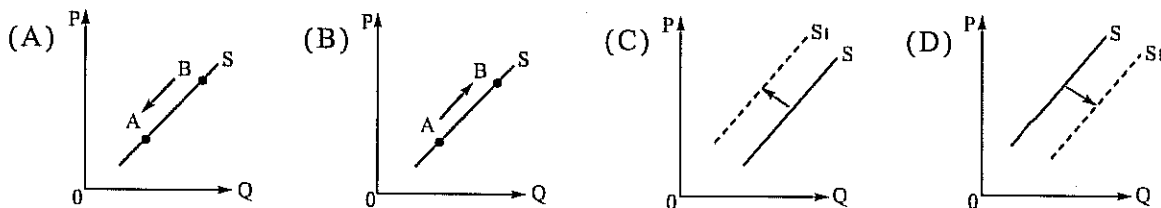
人類生存需要經濟發展，而在不同的經濟體系下，將會產生不同型態的經濟行為的互動，請回答以下問題：

36. 選擇的行為就是經濟行為，而有系統研究經濟行為的社會科學就是經濟學，下列有關經濟學的相關敘述，何者正確？
- (A) 研究如何選擇對自己最有利的經濟活動
 - (B) 不論資源無限或有限，所做的選擇行為
 - (C) 做選擇的原因是慾望無窮、資源有限且單一用途
 - (D) 是在假設人是不自私的且不理性的基礎上，進行的選擇行為
37. 經濟制度又稱經濟體系，不同經濟制度會有基本上的差異，而有關經濟制度的敘述，何者正確？
- (A) 資本主義制度不會出現剝削、貧富不均的現象
 - (B) 在資本主義制度下，市場供需能發揮最大的作用
 - (C) 資本主義制度才需要資本，其他經濟制度不需要資本
 - (D) 計畫經濟制度中的政府，基本上不介入人民的經濟活動

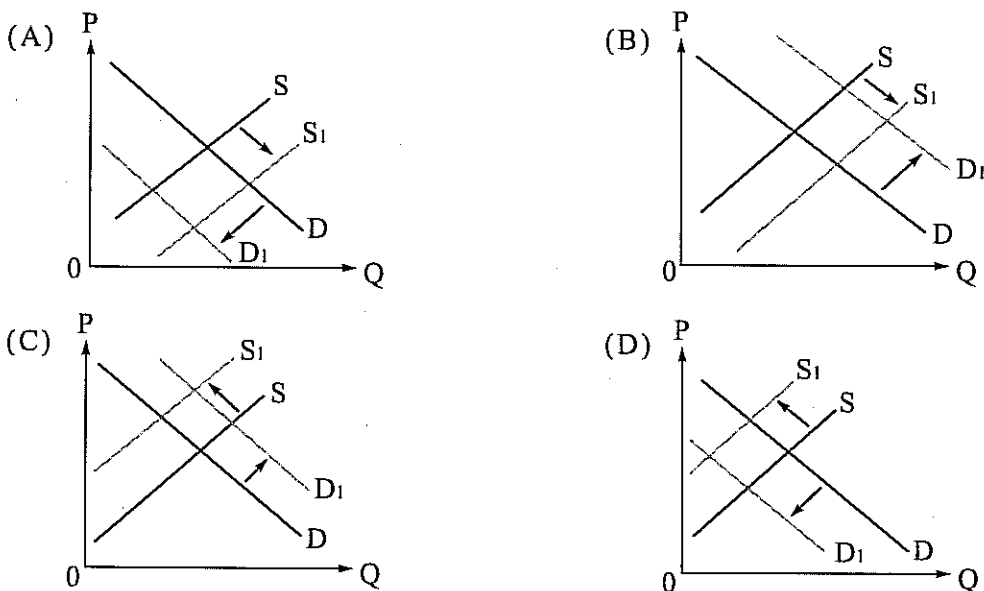
38-39 題為題組

蔬菜的供需常受季節天候的影響，而有所變化，有時蔬菜價格比肉類價格貴，有時則便宜到菜賤傷農的地步。

38. 假設其他條件不變，農曆年後，由於天候不穩定，忽冷忽熱，造成蒜頭成長受損而減產，使蒜價高漲到一斤上百元，可用下列何圖來解釋此現象？



39. 在初夏的5月，天氣逐漸回穩，青菜大量生產，再加上天氣炎熱，吃火鍋的人減少，造成青菜價格狂跌到銅板價，請問此時的供需變化為何？



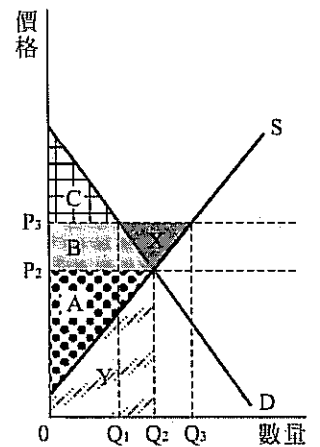
二、多選題(占22分)

說明：第40題至第50題，每題有5個選項，其中至少有一個是正確的選項，請將正確選項畫記在答案卡之「選擇題答案區」。各題之選項獨立判定，所有選項均答對者，得2分；答錯1個選項者，得1.2分；答錯2個選項者，得0.4分；答錯多於2個選項或所有選項均未作答者，該題以零分計算。

40. 1955年，美國的女性黑人羅薩·帕克斯在搭公車時，拒絕遵照種族規矩讓座位給白人，引發抵制蒙哥馬利公車的公民不服從行動；馬丁·路德·金參與抵制活動後，引發了美國的民權運動。而有關公民不服從的敘述，正確的有哪些？

- (A) 發現法律不合理時，主動拒絕遵守，並訴諸於暴力，屬暴力抗議
- (B) 面對執政當局的逮捕、攻擊等措施，抗議者必須積極反抗來爭取關注
- (C) 選擇故意觸犯某項法律，或非法佔據某些設施，採取非暴力的擾亂行為
- (D) 認為面對不公，不要訴諸暴力，而是可以採取不支持、甚至抵制的作法
- (E) 對抗不合理法律，並付出懲罰代價，以喚起其他公民和輿論的關注和壓力

41. 錦弘和娜娜先到戶政事務所辦理結婚登記，日後才要舉行迎娶宴客。下列相關敘述何者正確？
- (A) 娜娜日後若出家為尼，婚姻關係將自行消滅
(B) 我國目前的結婚方式，採登記婚與儀式婚並行制
(C) 不管是否有舉行迎娶宴客，兩人已成為合法夫妻關係
(D) 兩人若為堂兄妹關係，只要完成結婚登記，婚姻仍生效
(E) 錦弘和娜娜成為配偶關係，日後生下的小孩將為婚生子女
42. 行政法具有保障人民基本權利的的作用，假若行政機關在執行職權時，違法或過失地侵害到人民權益時，人民可就其權益受損部分提起下列哪些程序，要求保障其權益？
- (A) 訴願 (B) 行政訴訟 (C) 國家賠償
(D) 刑事訴訟 (E) 非常上訴
43. 右圖是某國的成衣市場均衡圖，市場均衡價格為 P_2 ，均衡數量為 Q_2 ；而目前國際成衣市場的均衡價格為 P_3 ，在不考慮關稅、運費等其他條件下，下列相關敘述何者正確？
- (A) 當開放國際貿易，出口供給量為 $Q_3 - Q_1$
(B) 開放國際貿易後，國內均衡數量將調整為 Q_3
(C) 開放國際貿易後，國內均衡價格將維持為 P_2
(D) 開放國際貿易後，國內總剩餘為 $C + B + A + Y + X$
(E) 當國內市場達成均衡時，消費者剩餘為 $C + B + A + Y$
44. 政府的支出可以依目的而分成消費性支出、投資支出、移轉支出、公債利息等四類，而消費性支出包括哪些？
- (A) 國防外交 (B) 購屋貸款的補助
(C) 軍公教人員的薪資 (D) 興建道路、機場、碼頭
(E) 重大災害的受災戶補償金
45. 政府間的國際組織，通常由成員國簽訂具國際法效力的條約或協定而成立，有關政府間國際組織的相關敘述，何者正確？
- (A) 成員必須以主權國家的名義加入
(B) 政府間的國際組織均屬於全球性質
(C) 政府間國際組織所做成的決議，易成為國際規範
(D) 目前最大且最具代表性的政府間國際組織是歐盟
(E) 提供多邊多層次的溝通管道，具有工具者的角色
46. 我國目前已加入 2000 多個非政府組織，有助於提升我國的國際地位與能見度，下列有關非政府組織的相關敘述，何者正確？
- (A) 以暴力方式來展現直接行動
(B) 由政府直接參與，產生具有公權力的背景
(C) 透過專業諮詢、提供資訊，是參與方式之一
(D) 1919年成立的國際聯盟，1962年成立的國際特赦組織屬之
(E) 世界貿易組織、亞太經濟合作會議等，都是活躍的非政府組織



47. 雅雯原本在安親班當老師，月薪 2.4 萬，她想自行創業開咖啡店，估計月收入 7.6 萬，但須付店面租金 0.6 萬，水電費 0.4 萬，店員 1 萬，有關改開咖啡店的成本，正確的有哪些？
- (A) 外顯成本為 7.6 萬 (B) 隱藏成本為 2.4 萬 (C) 機會成本為 4.4 萬
(D) 外顯成本為 4.4 萬 (E) 隱藏成本為 5.2 萬
48. 下表是台灣和韓國在 2012 年 12 月生產腳踏車和手機的生產量關係表，從表中資料研判，下列敘述正確的有哪些？

	台灣	韓國
腳踏車	12 萬輛	8 萬輛
手機	3 萬隻	1 萬隻

- (A) 台灣的腳踏車產量比韓國高，韓國的手機產量比台灣高
(B) 台灣的手機產量比韓國高，韓國的腳踏車產量比台灣高
(C) 進行貿易交換時，台灣應生產腳踏車，韓國生產手機
(D) 進行貿易交換時，台灣應生產手機，韓國生產腳踏車
(E) 兩國貿易時，依照絕對利益進行分工，可以互蒙其利
- 49-50 題為題組
- 發展心理學家羅伯特·傑弗雷·史坦伯格在調查多人的愛情經驗後，提出愛的三角形理論，他認為愛情包括激情、親密與承諾三元素，當三元素的強度愈強，則愛情關係就愈穩定與緊密。
49. 愛情在不同階段時的各元素佔的比例為不太一樣，就下列有關愛情發展過程與愛情三元素的相關敘述，正確的有哪些？
- (A) 剛步入愛情時，親密的成分較為強烈
(B) 愛情逐漸穩定時，親密的程度將逐漸下滑
(C) 親密強度逐漸下滑時，可能面臨分手危機
(D) 不同的元素組合，會造成愛情的危機與轉機
(E) 老夫老妻階段時，三元素的強度會同時增加
50. 心理學家舒茲表示，愛、歸屬與控制是人類三大基本的人際需求，尤其是愛，每個人都需要愛，愛是人類的基本需求，下列有關愛與親密關係的敘述，正確的有哪些？
- (A) 良好的情愛關係，會使人產生幸福與安全感
(B) 馬斯洛在需求金字塔中，將愛歸為生理需求
(C) 個體自主性是情愛關係的前提，不能強迫對方
(D) 在私領域的親密關係中，不必講究民主溝通模式
(E) 家庭暴力是違反親密關係中的尊重與溝通，將傷人傷己

全國公私立高級中學 101 學年度指定科目第五次聯合模擬考試

公民與社會考科解析

考試日期：102 年 3 月 4~5 日

1	2	3	4	5	6	7	8	9	10
C	C	A	D	C	A	C	B	A	A
11	12	13	14	15	16	17	18	19	20
C	D	B	C	D	D	C	C	B	B
21	22	23	24	25	26	27	28	29	30
B	D	C	B	D	D	A	B	A	D
31	32	33	34	35	36	37	38	39	40
B	A	B	B	A	A	B	C	A	CDE
41	42	43	44	45	46	47	48	49	50
CE	ABC	A	AC	CE	C	BC	D	CD	ACE

一、單選題

- 米德的重要他人是一個形容人際關係的用詞，是對於一個人的自我評價與風評具有強烈影響的人，通常是指對一個人的生活或福祉具重要性的人物。這些人可能是父母、老師、長輩、兄弟姊妹、朋友、同儕
- 社會權是指個人在社會中享有健全生活的權利，包括生存權、工作權、受教權等，藉此賦予個人的各種權利的保障
- 咖啡店和沙龍形成介於國家和社會之間的公共空間，與私人領域相對，公民可在此討論且參與公共事務而不受干預，此領域稱為公共領域
- 媒體識讀是指在一個高度飽和、商業競爭劇烈的媒體社會，閱聽人評估、分析、詮釋、解讀各種媒體所呈現的意涵之本領，以及蒐集、使用和應用媒體資訊的技能
- 我國對國際移工的政策管制，常被學者視為是協助雇主奴役移工的機制，這樣的規範造成處罰依法工作的移工，間接促成移工的逃跑與追求法外自由的現象
- (B)主權是國家的最高權力，對內享有統治權 (C)此承認是認同其具有國家構成要素「政府」 (D)政府在沒有領土、人民、主權的情況下，可以單獨存在
- (A)形成政策問題：人民產生需求，民代提出問題 (B)政策評估：對公共政策的效果做出鑑定和估量 (D)啟動政策規劃：政策目標的確立，並經媒體大肆報導宣傳
- (A)利益團體與政府的關係密切時，較易受重視與保障其主張 (C)利益團體運作與主張，不必然顧及社會大眾的權益 (D)選票對行政官員或民代是具有一定的影響力
- (B)原住民立委(C)直轄市議員(D)鄉鎮市民代表，均採複數選區相對多數決制
- 處於無律階段的兒童，凡事只憑自己的生理衝動，並無道德觀念 (D)練習律(law of exercise)是指練習次數愈多，個體的某種反應與某一刺激間的連結則愈加強
- (A)(B)(D)為程序法
- (A)強調社會秩序(B)重視執法與守法(C)主張透過立法程序修法，均強調惡法亦法
- 警方選擇最溫和的手段，同時能達到逮捕嫌犯的目的，就是比例原則中的必要性原則的展現
- 目前僅國立中正文化中心為行政法人，行政院提出在未來將可能改制為行政法人的有國家運動訓練中心、臺灣電影文化中心、國家表演藝術院(原國立中正文化中心)、國家災害防救科技中心和中山科學研究院等組織
- (A)檢察官依刑事訴訟法，指揮執行該判決 (B)執行的內容，是依判決書所判決的刑罰種類而定 (C)受 6 個月以下有期徒刑或拘役者，得聲請易服社會勞動
- (A)志明和春嬌的協商，屬於訴訟外的和解 (B)口頭或書面協商，都具法律效力 (C)訴訟外的和解有一方不履約時，另一方不能拿和解契約來聲請法院強制執行，而是要提告，請求對方履行契約，等法院判決確立後，再依判決書向法院聲請強制
- 茶葉價格與供給量呈現正向關係，當茶葉價格好時，生產者願意且能夠提供的數量就會增加，形成供給量的增加；反之，當茶葉價格下跌，供給量就減少
- (A)出口國的消費者剩餘減少，總剩餘增加 (B)出口國的生產者剩餘增加，總剩餘增加 (D)進口國的生產者剩餘減少，總剩餘增加
- (A)賣給小吃店做成牛肉麵的麵條，麵條屬於中間產品，牛肉麵才是最終產品 (C)家庭主婦的煮飯、掃地、洗衣，屬於家務勞動，不屬於市場交易 (D)在古董拍賣場買的清朝瓷器，不是今年所生產的最終財貨
- (A)林地由國人所共有，卻因有人濫墾而造成水土保持功能喪失，屬於財產權不完整 (C)工廠大火造成附近農作物的農損，農民要求工廠進行賠償，屬於交易成本過高 (D)海洋中的鯨魚，被各國漁船濫捕，而造成漁源枯竭的現象，屬於財產權不完整
- (A)公共利益著眼不同層次的利益，需要經過辯論的過程，才不會被濫用或誤用 (C)公共是指不特定的社會大眾的利益，不是具有特定身分的個人才能受益 (D)公共利益是全民性的，但不一定是絕對的多數，社會福利津貼也是公共利益，但是需要透過公權力來維護
- 題文末提到「不會因經濟困境而延誤就醫」，可以顯示全民健保對弱勢者的照顧，因此符合正義論的觀點
- (A)語言不僅是傳承文化的媒介，也是了解文化的重要工具 (B)語言可以反映社會文化結構，並影響個人的價值觀 (D)社會成員會透過語言來進行溝通互動，具有學習社會文化的功能
- 大眾文化源自工業革命，透過大量複製而產出產品
- (A)政府積極立法保障人民的生命與基本權利，屬於法治政治中的依法保障個人自由 (B)違法濫權的掌政者，必須接受司法調查，屬於責任政治的法律責任 (C)國家要限制個人自由，必須有法源依據，屬於法治政治 (D)每位公民均有相同機會，來參與政治決策的過程，屬於民意政治的政治平等
- (A)政府落實普遍性的公民身分，是民主政治的構成要

- 件之一 (B)掌握行政權者，要對違反民意的行為負責，是政治責任的展現 (C)透過定期改選，表達民意，更換不適的執政者，是民意政治的展現
27. 不是擁有憲法的國家就是憲政主義的國家，憲政主義國家是指要依照憲法，來規範政府的組織與職權，實施分權制衡的有限政府，並保障人民的自由權利
28. 我國對大陸政策主要的信念是「以台灣優先，人民為主」
29. (B)中國強調以經促統的對台政策 (C)目前兩岸僅進行事務性的協商，尚未進入政治性協商 (D)我國預期採徵兵制與募兵制的並行制度，來提升國軍素質
30. (A)刑法的總則是規定犯罪行為的基本原則及要件 (B)刑事訴訟法不是刑法的一種 (C)刑法是規定何種行為是犯罪，而以公權力施以刑罰制裁
31. 男性被害人不能找出性質相類似的條文予以適用，屬於禁止類推適用原則
32. 英國首相得提請女王解散國會，法國總統擁有主動解散國會的權力；美國為總統制國家，無解散國會的機制
33. (A)英國女王擁有公布法令權 (C)掌國家的對外行政權(外交與國防權)，與法國總統相同 (D)任命行政院長，不須經立法院同意；美國總統任命國務卿須經國會同意
34. 道德絕對論者主張，道德具有永恆性，不因時空而差異，因此不道德行為就是不道德，不受動機或結果影響，因此說謊就是不道德，善意的謊言也是不道德
35. 由於興建核電廠能有效促進經濟發展，能為大多數人帶來更便利的生活，因此其結果是值得的，這屬於效益論的看法
36. (B)在資源有限的情況下，所做的選擇行為 (C)做選擇的原因是慾望無窮、資源有限且有多種用途 (D)是在假設人是自私的且理性的基礎上，進行的選擇行為
37. (A)從社會主義的觀點，資本主義會出現剝削、貧富不均的現象 (C)所有的經濟制度都需要資本 (D)計畫經濟制度中的政府，積極介入人民的經濟活動
38. 由於是供給減少，因此供給線將由 S 左移到 S_1
39. 青菜的供給增加，供給線 S 右移為 S_1 ，對青菜的需求減少，需求線 D 左移為 D_1

二、多選題

40. (A)指發現法律不合理時，主動拒絕遵守，不訴諸於暴力，屬非暴力抗議 (B)面對執政當局的逮捕、攻擊、毆打等措施，抗議者必須保持平靜、不抵抗
41. (A)娜娜日後若出家為尼，婚姻關係仍存在；只有夫妻一方死亡或離婚，才具婚姻解消的效力 (B)我國目前的結婚方式，採登記制 (D)兩人若為堂兄妹關係，及時完成結婚登記，婚姻仍無效；違反近親不得結婚規定，婚姻將自始無效
42. 人民透過訴願、行政訴訟、國家賠償來保障權益，而不會有刑事訴訟、非常上訴的程序出現
43. (B)開放國際貿易後，國內均衡數量將調整為 $Q_1 - Q_3$ 之間 (C)如果原來國際均衡價格為 P_3 ，後來某國出口，國內均衡價格和原來的國際均衡價格都會變動，介於 $P_2 - P_3$ 之間，且趨於一致 (D)開放國際貿易後，國內總剩餘為 $C + B + A + X$ (E)當國內市場達成均衡時，消費者剩餘為 C
44. (B)購屋貸款的補助，屬移轉支出 (D)興建道路、機場、碼頭，屬投資支出 (E)重大災害的受災戶補償金，屬移轉支出
45. (A)成員可以用主權國家、經濟體、關稅領域的名義加入 (B)政府間的國際組織有全球性、區域性 (D)目前最大且最具代表性的政府間國際組織是聯合國

46. (A)以非暴力方式來展現直接行動 (B)政府間的國際組織是由政府直接參與，產生具有公權力的背景 (D)1919 年成立的國際聯盟屬於政府間的國際組織，1962 年成立的國際特赦組織屬於非政府間的國際組織 (E)世界貿易組織、亞太經濟合作會議等，都是活躍的政府組織
47. 外顯成本=店面租金 0.6 萬+水電費 0.4 萬+店員 1 萬=2 萬，
隱藏成本=安親班當老師的月薪 2.4 萬，
機會成本=外顯成本+隱藏成本=2 萬+2.4 萬=4.4 萬
48. 台灣不論在生產腳踏車或手機的產量，都比韓國高，均享有絕對利益；但是台灣享有生產手機的比較利益，韓國享有生產腳踏車的比較利益，因此依照比較利益進行分工，再貿易交換，就可以互蒙其利
機會成本表如下：

	台灣	韓國
腳踏車	1/4 隻手機	1/8 隻手機
手機	4 輛腳踏車	8 輛腳踏車

49. (A)剛步入愛情時，激情的成分較為強烈 (B)愛情逐漸穩定時，親密的程度將逐漸上升，強度加強
50. (B)馬斯洛在需求金字塔中，將愛歸為愛與歸屬需求 (D)學者紀登斯提出親密關係的民主化，主張在私領域的親密關係中，必須講究民主溝通模式，以維護個人在親密關係中的自主性