

臺中區國立高級中學 101 學年度
大學入學指定科目考試第二次聯合模擬考

歷史考科

試題編號：AU-3014

—作答注意事項—

考試時間：80 分鐘

題型題數：

- 第壹部分：選擇題共 40 題
- 第貳部分：非選擇題共五大題

作答方式：

- 選擇題用 2B 鉛筆在「答案卡」上作答；更正時，應以橡皮擦擦拭，切勿使用修正液（帶）。
- 非選擇題用筆尖較粗之黑色墨水的筆在「答案卷」上作答；更正時，可以使用修正液（帶）。
- 未依規定畫記答案卡，致機器掃描無法辨識答案；或未使用黑色墨水的筆書寫答案卷，致評閱人員無法辨認機器掃描後之答案者，其後果由考生自行承擔。
- 答案卷每人一張，不得要求增補。

祝考試順利

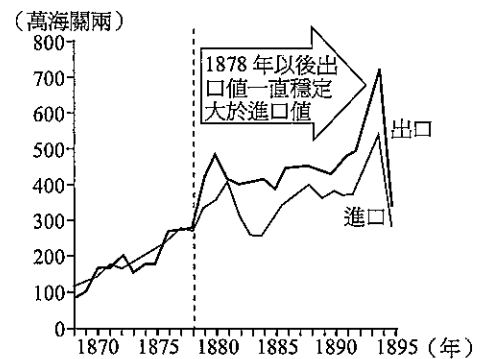
第壹部分：選擇題（佔 80 分）

一、單選題（佔 72 分）

說明：第 1 題至第 36 題，每題有 4 個選項，其中只有一個是正確或最適當的選項，請畫記在答案卡之「選擇題答案區」。各題答對者，得 2 分；答錯、未作答或畫記多於一個選項者，該題以零分計算。

1. 這個戰爭之後，黑海海峽的問題成爲重要的焦點。戰後規定：俄國放棄對土耳其帝國東正教教徒的保護權。塞爾維亞自治，但土耳其蘇丹的最高權力仍保留。俄國將卡爾斯歸還土耳其，收復被英、法聯軍所占領的城市。黑海中立化、黑海海峽禁止各國軍艦通行。戰後對俄國打開黑海海峽向南擴張的企圖是一沉重打擊，土耳其雖被承認爲「歐洲協調」的一國，但也說明其淪爲歐洲列強支配和擺布的地步。此爲哪一戰爭？
- (A)克里米亞戰爭 (B)第二次俄土戰爭
(C)第一次世界大戰 (D)土耳其獨立戰爭

2. 根據右圖，台灣的貿易發展於 1878 年後呈現出超現象，主要受□□的出口產值的影響，□□民間俗稱爲「白金」，請問□□爲何？
- (A)茶葉 (B)蔗糖
(C)樟腦 (D)海鹽




3. 有關馬丁路德萌發宗教改革的想法並非無故形成，而是之前已有人提出類似觀念影響所致，例如胡斯（Jan Hus）、伊拉斯莫斯（Desiderius Erasmus）等，但伊拉斯莫斯卻曾針對宗教改革一事提出看法，因爲有人對他說：「是你下了宗教改革的蛋，路德僅是孵蛋而已。」他則說：「我下的是家雞的蛋，他卻孵出變種雞。」試問：伊拉斯莫斯何以會有如此說法？
- (A)路德派反對「大赦」行爲，與其思想不合
(B)伊拉斯莫斯是荷蘭人，較傾向喀爾文派
(C)路德派主張聖餐禮時主會親自降臨，他不認同
(D)路德主張成立新教派，而他只認同改革
4. 一本醫學史上記述：「在中國醫學上，醫生問病的時候，首先要了解病人有些什麼症狀，比如頭痛、發熱、怕冷、咳嗽等以及病人的表情，還要按一下病人的脈博，這一系列的症稱做症候群，綜合在一起的症候群，中醫就稱它爲『證』。通過對『證』的仔細辨別，就可以討論治療，然後處方用藥。」請問：這個過程是由何人於何書中所確立的？
- (A)李時珍《本草綱目》 (B)孫思邈《備急千金要方》
(C)王叔和《脈經》 (D)張機《傷寒雜病論》

5. 該國絕對是兩次世界大戰的大贏家。因兩次戰爭中，它都占了後發制人的好處，等到局勢明朗後，在關鍵時刻才適時投入全力，不僅避免了錯誤的消耗，也收到了最大的利益。更重要的是兩次戰爭其本土都未受到破壞，因此比起在斷垣殘壁中重建家園的國家更具優勢。請問這個國家應是指？
(A)俄國 (B)美國 (C)英國 (D)義大利
6. 19 世紀，清廷被迫加入國際新秩序，通商口岸的某些商人和企業家財源滾滾，但沒有哪個地方真正繁榮起來；中國的對外貿易平衡被打破，導致了長期的通貨緊縮和經濟蕭條。從 1815 年到 1850 年，物價降了一半，但是原本在 1800 年要繳一百個銅錢的稅款，到 1850 年就要繳二百個銅錢了。請問造成此現象的原因為何？
(A)因鴉片進口激增，白銀大量外流 (B)因對外戰爭頻繁，黃銅價格攀升
(C)沿岸與內地的發展不均衡所導致 (D)因關稅自主權喪失導致稅收減少
7. 戰國時代陰陽家齊人鄒衍主張「五德終始說」，認為人事盛衰與朝代的變革都可用五行來解釋，五行運行的解釋為彼此可以相勝。後來秦與西漢政府採行此說來確立其政權的合理性，如當時的夏代就被認為是木德。請問若採相勝說，則漢代應為五行中的何者？
(A)土德 (B)水德 (C)火德 (D)金德
8. 西元 1910 年，臺灣總督佐久間左馬太制定「五年理蕃計畫」，多次以武力進攻泰雅族人，遭遇超乎預期的強烈抵抗。另外，設置隘勇線以隔離原住民。西元 1914 年，佐久間左馬太發動「太魯閣之役」，率領兩萬名部隊親自征討泰雅族。請問臺灣總督進行理蕃事業的原因為何？
(A)防止漢人勾結原住民 (B)同化原住民族
(C)消滅原住民族 (D)取得山林資源
9. 美國副總統錢尼曾說：「如果你想要對二氧化碳排放問題做一些事，那你就應該建□□廠，因為它們不會排放任何二氧化碳。」請問文中□□填入何種發電廠最為恰當？
(A)石油 (B)煤炭 (C)太陽能 (D)核能
10. 中古歐洲進行某次軍事行動時，為了支應這次行動開支，發起了全面的捐款運動，教宗下令教士必須付出特別稅；而英王亨利則倡導「薩拉丁什一稅」，向人民課徵特別稅；不久，法王菲利普亦制定了類似的捐稅。這軍事行動對日後歐洲造成何種重大影響？
(A)促成東西文化交流，海上冒險開始
(B)行動需要大筆費用，勞民傷財，儲蓄觀念出現
(C)西方王權的擴張
(D)歐洲誓滅薩拉丁，奠定帝國主義稱霸世界的基礎

11. 宋元時期，在戰爭的間歇期間，也都出現過相對穩定的時期。因此，社會經濟得以恢復及發展，科學和技術也都得到提升；生產的發展、經濟的繁榮、前代的積累、政策獎勵以及各民族之間與中外科學技術的交流，都是這一時期科學技術發達的條件。請問明清之後，科技發展停頓的主因為何？
(A)政府禁止 (B)人口過多 (C)士人反對 (D)戰亂頻繁
12. 在中國歷史的發展過程中，我們常看到一個現象，那就是：「不同文化接觸時，若用強制的政策進行同化，其所產生的結果，可能會導致一個朝代爆發內亂。」下列那個帝王任內即曾發生過上述現象？
(A)北魏孝文帝 (B)北魏孝明帝 (C)梁武帝 (D)唐玄宗
13. 西元 1930 年，同屬於賽德克族的花岡一郎與花岡二郎於壁上聯名發表遺書，說明兩人無能為力，只能一死：「我們必須離開這個世界。此為蕃人□□，長久以來累積的怨憤終於爆發出來。我們也被蕃人拘捕，無可奈何。蕃人在各處皆有防衛，郡守以下職員全都死在公學校裡面。」□□指的是蕃人起事的最主要原因，請問空格內應填入：
(A)未受教育 (B)勞役過重 (C)賦稅過重 (D)婦女受辱
14. 有一位文人曾說：「夫茶之為民用，等於米鹽不可一日以無。」俗諺也謂：「開門七件事，柴米油鹽醬醋茶」。請問：此反映了何時代開始，上至王公貴族，下至黎民百姓，茶已成為一種大眾化必需品？
(A)先秦 (B)漢代 (C)唐代 (D)宋代
15. 小安看報上載：「英國萊斯特大學的考古學家證實，經由 DNA 鑑定，去年 9 月在萊斯特市區停車場下方挖到的一具骨骸，確定是英國最後一位死在戰場上的國王理查三世，終於解開了 500 年來有關理查三世遺骸下落的迷團。……骨質考古學家艾普勒比說，這具骨骸是一位接近 30 歲左右的男子，理查三世死時 32 歲。遺骸有 10 處傷口，其中 8 處在頭顱，2 處是致命傷，其中一個傷削掉一塊骨頭，另一處刀傷砍穿頭顱，直達頭的另一邊，刀傷超過 10 公分。……他在 1485 年的戰役中死亡，結束金雀花王朝，開啓都鐸王朝。……科學家取得現年 55 歲、理查三世姐妹的第 17 代後裔的兒子伊布森的 DNA 樣本，與骨骸樣本比對，確認骨骸身分。」【2013/02/05 聯合報／布魯塞爾記者蕭白雪、編譯田思怡／報導】針對上述報導理查三世陣亡的「戰役」應該是指：
(A)英西海戰 (B)薔薇戰爭 (C)清教徒革命 (D)光榮革命
16. 歷史研究生阿寶想要寫一篇關於 1750 年代的歷史報告當作畢業論文，請問此論文的内容主題最有可能為何？
(A)描述拿破崙大軍席捲歐洲的狀況和影響
(B)英國結束蒙兀兒王朝後印度發展的情況
(C)研究「步步驚心」中的有關光緒皇帝的皇宮密史
(D)清治初期台灣移墾社會的情形

17. 2013 年的除夕夜，乒乓球高手莊則棟的逝世引起媒體的報導與回顧。右圖是紀念四十年前中美關係與莊則棟相關連的政治漫畫圖。請問當時最重要的影響是？



- (A) 化解古巴飛彈危機
(B) 尼克森親訪北京
(C) 美國與中國建交
(D) 美援的結束

18. 一篇論文的内容記載：「最初由於北方人大量流寓到南方，喜好麵食者大增，南方種麥才普遍，農人採用稻麥輪作方式，充分利用土地。可是人口繼續增加，對於糧食的需求日增，耕地便向沼澤和丘陵地發展。」這篇論文所描述的時代背景應該是以下何時？

- (A) 唐朝
(B) 宋朝
(C) 元朝
(D) 明朝

19. 台灣耕地曾呈現一田兩主、一田多主的情形，後來歷經政策的改變而逐漸消失，請問有關政策的演變下列敘述何者正確？

- (A) 沈葆楨欲以小租戶取代大租戶但引發施九緞事件而失敗
(B) 劉銘傳為平息大租戶反彈改採減四留六政策
(C) 日治時代田健治郎開始展開土地調查，確認小租戶為土地所有權者
(D) 戰後台灣歷經三七五減租等一連串土地改革，自耕農完全取代大地主

20. 臺灣歷史上某一時期，民生必需品如米、糖、豬肉、牛奶、火柴等陸續被納入配給，政府力推金屬、鎳銅、硬幣回收運動，鼓勵農家種植蔬菜、養豬以增加食物來源。但是，人民每餐只能吃番薯簽度日子，連坐月子的婦女跟病人都不一定能吃得到雞蛋。請問此時期為：

- (A) 第一次世界大戰期間
(B) 九一八事件爆發時
(C) 中日戰爭爆發後
(D) 臺灣光復初期

21. 十八世紀此帝國漸走下坡，十九世紀更因民族主義與民主政治的衝擊而有不振之勢。主要的原因之一是帝國境內民族複雜，尤其是形形色色的斯拉夫民族。因此帝國自來就有「具有日耳曼外型的斯拉夫房舍」之稱。這應是形容哪一帝國？

- (A) 俄羅斯帝國
(B) 土耳其帝國
(C) 奧地利帝國
(D) 德意志帝國

22. 二十世紀下半葉的美國在聯合國影響力極大，因而常可看到這個國家主導聯合國維和部隊的派遣。而在七、八世紀時的中國，亦曾出現過類似可以調派週邊諸國聯軍的強大力量，甚至可冊封「番邦」諸王及任命聯軍統帥之權。請問這樣的權力與當時哪外族被平定有關？
(A)南匈奴 (B)北匈奴 (C)西突厥 (D)東突厥
23. 西方某位皇帝在執政期間，軍事上施行「東守西攻」的策略，希望收復已失故土；內政上頒布《民法大全》，強調政教合一，君權神授並為其宗教興建教堂，堪稱開創一盛世時期。最合乎以上敘述的君王是：
(A)戴克里先 (B)查士丁尼 (C)君士坦丁 (D)狄奧多西
24. 宋明以後，資本主義萌芽，在中國沿海一些地方，部分農民離開土地成為無業遊民或工商業者，隨之而來的是各種行會幫會的出現。到了清代，更有一些人遠涉重洋到海外謀生。在衣食無著、動盪不安的生活狀況下「在家靠父母，出外靠朋友」成了這些人的生活信條，商人們還由此附會了□□□□「上馬金，下馬銀」的故事，並將之奉為財神，於是□□□□不僅成了他們的崇拜與表率，並成為相互團結的精神紐帶，還成了能招財進寶的神仙。請問上述□□□□是指何位神明？
(A)城隍爺 (B)關公 (C)媽祖 (D)土地公
25. 某個朝代末年，黃河暴溢，沿河州郡先遇水災，又遭旱災、瘟疫，災區人民死者過半，且黃河決堤後，沖壞山東鹽場，嚴重影響政府的國庫收入；政府動員十五萬民工及兩萬軍隊，開鑿兩百八十里新河道，使黃河東去，但官吏卻乘機舞弊，人民痛苦更深。之後，皇帝又決定變更鈔法，濫發紙幣，造成物價飛騰。請問這是那個朝代末年的景象？
(A)唐朝 (B)宋朝 (C)元朝 (D)明朝
26. 大明是生活在西周中晚期的一位「野人」，當時他可享有的權利或負擔的義務為何？
(A)參政的權利
(B)服兵役的義務
(C)繳納粟米給貴族的義務
(D)經營工商業的權利
27. 右表是西元 1926 年時臺灣的一項統計數字，這個表最適當的主題為何？
- | | 男 | 女 | 平均 |
|-----|-------|-------|-------|
| 日本人 | 98.3% | 98.1% | 98.2% |
| 臺灣人 | 43.0% | 12.3% | 28.0% |
- (A)臺灣地區神道信徒人口統計
(B)臺灣適齡兒童就學情況統計
(C)臺灣地區成年人口就業統計
(D)臺灣地區醫療照護保險統計

28. 新出土的《利邦上尉東印度航海歷險記》中，呈現利邦上尉親身見證的大航海時代，以及對台灣的觀察，包括原住民獵鹿的方式、熱絡的鹿皮貿易及蓋滿枝葉的住屋…等，請問利邦上尉所觀察的原住民最有可能為哪一族？
- (A)泰雅族 (B)阿美族 (C)凱達格蘭族 (D)西拉雅族

29~30 題為題組題

小明在玩網路遊戲時出現了一個歷史場景，當時宦官專權、政治黑暗、民生痛苦，並先後爆發了兩次學生運動，許多學生被補遇害，牽連極廣。在此局勢下，該朝代末年發生民間以武裝暴動反抗此政權的事件，朝廷為平亂還賦予地方州郡首長如刺史、州牧掌兵大權。請回答下列第 29~30 題：

29. 在此網路遊戲當中，哪個人物最有可能出現以下言論：「身為朝廷命官，不應空有官位、尸位素餐；自當廣結天下清流，戮力報國！」？
- (A)郭泰 (B)李膺 (C)竇憲 (D)張角
30. 當時朝廷為平亂所採取的措施，最後導致了什麼樣的局面？
- (A)太平盛世 (B)天下三分 (C)八王之亂 (D)州郡割據

31~32 題為題組題

資料一：美國的華人男女比例：

年代	男性：女性
1860	1859 人：100 人
1900	1887 人：100 人
X	135 人：100 人

資料二：法案甲：「停止華工進入美國…。從此以後州法院或聯邦法院，均不得准許華人歸化為美國公民」

法案乙：「中國商民如傳教、學習、貿易、遊歷人等，以及隨帶並雇用之人，兼已在美國各處華工，均聽其往來自便，俾使得優待各國最厚之利益。」

法案丙：「中國政府，允許華工自由出洋。招工出洋，以通商口岸為限。」

法案丁：「准許中國移民及在美華人歸化成美國公民。」

根據上述二則資料，回答下列問題：

31. 資料一中的 X 最可能是出現在哪一年代？
- (A) 1920 (B) 1930 (C) 1960 (D) 2000
32. 美國華人的男女人數比例漸趨於平均，應和資料二中的哪一項法案有關？
- (A)法案甲 (B)法案乙 (C)法案丙 (D)法案丁

33~34 題為題組題

藍鼎元說：「臺民喜亂，如撲燈之蛾，死者在前，投者不已」，「方慶削平，又圖復起」。吳子光指出臺灣有「任反不成，任征不平」之謠。

33. 請問此種現象出現於何時最明顯？

- (A)明鄭時期 (B)清治初期
(C)清治後期 (D)日治時代

34. (甲)高壓統治 (乙)消極治台 (丙)班兵制度 (丁)開山撫番 (戊)差別待遇 以上哪些情形行為造成此種現象的原因？

- (A)甲戊 (B)乙丙
(C)丁戊 (D)甲丙

35~36 題為題組題

請先閱讀以下史料，並據以回答下列問題：梁啟超的基本思想是改革的，但他對民初一連串革命性的變動極為憂慮，他說：「自辛亥八月迄今未盈四年，忽而滿洲立憲，忽而五族共和；忽而臨時總統，忽而正式總統；忽而內閣制，忽而修改約法；忽而召集國會，忽而解散國會；忽而任期總統，忽而終身總統；忽而以約法暫代憲法，忽而催促制定憲法。大抵一制度之頒行，平均不盈半年，旋即有反對之新制度起而推翻之，使全國國民徬徨迷惑，莫知適從，政府威信，掃地盡矣！」

35. 從梁啟超說話的時間來判斷，梁氏當時的不滿是針對下列哪一件事？

- (A)革命黨人組織護國軍 (B)籌安會鼓吹變更國體
(C)熊希齡提倡聯省自治 (D)宋教仁宣傳政黨政治

36. 在這「未盈四年」期間，國會被解散的真正原因是：

- (A)國會被安福系操縱，不具法統
(B)國會議員接受賄賂，聲援復辟
(C)國會已無利用價值，如由其制憲，將不利於總統
(D)國會因國民黨議員被取消資格，法定人數不足

二、多選題（佔 8 分）

說明：第 37 題至第 40 題，每題有 5 個選項，其中至少有一個是正確的選項，請將正確選項畫記在答案卡之「選擇題答案區」。各題之選項獨立判定，所有選項均答對者，得 2 分；答錯 1 個選項者，得 1.2 分；答錯 2 個選項者，得 0.4 分；答錯多於 2 個選項或所有選項均未作答者，該題以零分計算。

37. 資料一：「中國人已在臺窩灣（安平）與日本人盛行貿易，故余等若在該地定居，當可予以防止，倘若不為，則將失去所期待在日本之絹絲貿易之利益。」
資料二：「東番、倭寇之藪，今雖暫異於夷，久之啖夷利，勢將復合，小則劫洋，大則要市，浸假而更如前日滋蔓難圖。可虞者二。即無論紅夷、東番之寇率倚倭陸梁，附於夷，固為我患，不附夷亦自能為我患。臣密問鎮臣，若能使夷寇相殘，我徐收漁人之利乎？能使根荄盡除，百年之內不患夷，並不患倭乎？鎮臣曰：唯唯。」
- 根據上文，以下敘述何者正確？
- (A)資料一為西班牙人的立場
(B)資料二為明朝的立場
(C)從資料一中可知佔領台灣的目的為貿易利益
(D)外國人來華因中國施行海禁只能與日本貿易
(E)資料一、資料二目的皆為求宣示台灣主權
38. 近代以來歐洲歷史中英、法二國扮演重要角色，不管是政治、社會、經濟或思潮的發展皆是，二國關係在競爭下互別苗頭常有衝突，卻也常有相同立場。對於英法二國的敘述，下列正確的是？
- (A)英國比法國更早發展民主政治，但法國卻比英國更早實施成年男子普選
(B)法國是啟蒙運動的大本營，但開花結果卻是在英國
(C)工業革命發生在英國，但法國在十九世紀中葉後後來居上
(D)二十世紀的歐洲局勢法國傾向於統合，英國則始終反對加入歐盟組織
(E)美國獨立革命時法國曾出兵支持，但發展至二十世紀，英國比法國更加支持美國的外交政策，2003 年美伊戰爭即是明顯例子
39. 伊斯蘭教是世界三大普世宗教之一，所建立的政治勢力也相當強大，下列有關其敘述何者正確？
- (A)真主阿拉只是眾神當中的一位，並非唯一
(B)穆罕默德只是「先知」，並非神
(C)西元 622 年訂為回曆元年是因為當年穆罕默德由麥地那反攻回麥加，拓展成一回教大國，意義重大，故以此為起始
(D)阿布巴卡是伊斯蘭史上第一位「哈里發」
(E)西元 8 世紀時，伊斯蘭教勢力強大，但西侵歐洲時受法蘭克王國所阻，故疆域僅限歐、亞二洲

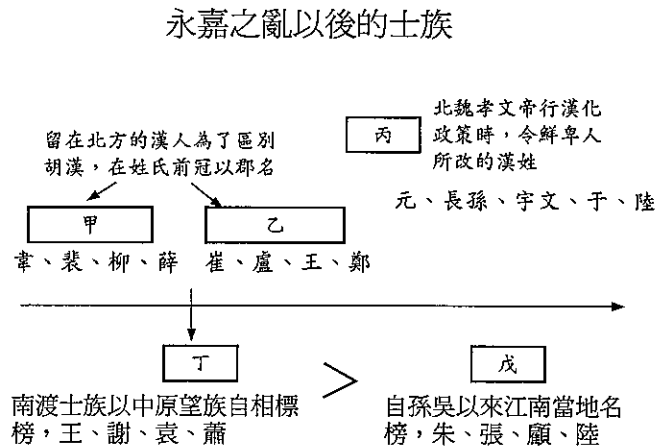
40. 請將清季自強運動與日本明治維新加以比較，選出正確的敘述：
- (A)中日甲午一役證明自強運動徹底失敗，毫無貢獻可言；而明治維新則是完全成功，使日本躋身世界強國之林
 - (B)自強運動與明治維新均為外力侵迫下從事的改革運動，兩者改革的重要目標，都是在追求富國強兵
 - (C)自強運動中修鐵路、開煤礦、發展煉鐵、紡織工業等均有成績；明治維新亦以工業建設為重要工作，而且成效卓著
 - (D)自強運動與明治維新兩者所從事的諸項改革，均由中央政府統一規劃，均由國君親自主導，國君之賢否關係改革成敗
 - (E)兩者均企圖改革政制，以便建立近代國家的立憲政體，自強運動時曾有立憲法、開國會、君民共治之議，但未實行；明治維新則公布憲法、設立國會、建立君主立憲政體

第貳部分：非選擇題（佔 20 分）

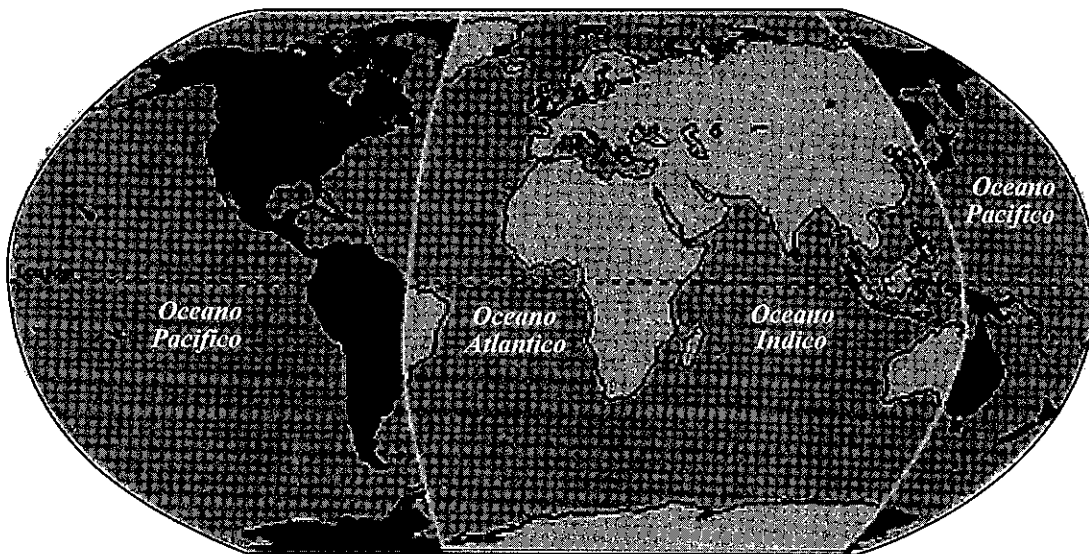
說明：本部分共有五大題，每大題包含若干子題。各題應在「答案卷」所標示大題號（一、二、……）之區域內作答，並標明子題號（(1)、(2)、……），違者將酌予扣分。作答務必使用筆尖較粗之黑色墨水的筆書寫，且不得使用鉛筆。每一子題配分標於題末。

- 一、宋代有位文人：「今人材乏少，且其學術不一，異論紛然，不能一道德故也，一道德則修學校；欲修學校，則貢舉法不可不變。…今以少壯時，正當講求天下正理；乃閉門學作詩賦。及其入官，世事皆所不習」請問：
- (1)上文批評何制度？（2 分）
 - (2)此人主張以何法（方式）取代之？（2 分）
- 二、喬治·歐威爾（George Orwell）《動物農莊》的故事是諷刺俄國的共產政權，其大概內容為：一群動物在一隻名為少校的豬的啓蒙之下，趕走了奴役牠們的人類，決心建立一個沒有剝削而平等的動物農莊。但後來出現了兩隻豬—雪球與拿破崙的爭權，拿破崙成功後，牠們辛苦建立起風車，希望能夠帶來幸福的生活。但是卻是更加無止盡的勞役與飢餓，最後形成豬的腐化以及更甚於人的極權統治。
- (1)根據上述所提及的人物：少校的豬、雪球，分別是指何人？（2 分）
 - (2)文中的「風車」，應是指哪一政策？（2 分）

三、永嘉之禍後，崇尚門閥之風更盛，留在北方的漢人士族紛紛標榜郡望，作為區別士庶的標準。當時北方主要分為三大勢力（如甲、乙、丙），南方主要分為兩大勢力（如丁、戊。丁的社會地位普遍高於戊），右圖為示意圖。請問其中的甲、丁兩個勢力一般我們如何稱呼他們？（4分）



四、15 世紀下半，西班牙籍教皇亞歷山大六世（Alexander VI，1431~1503），受國人要求出面保障將來橫越大西洋探險的獨佔權，以確保日後在大西洋的權益。於是經由教皇協調，在維德角群島以西 300 里格（約合 1770 公里或 1100 英里，大約位於西經 46°37' 的經線，見下圖左邊經線），線以西之地，西班牙擁有了一切探險的獨佔權；□□則持有此線以東的所有探險獨佔權。請根據以上敘述及下圖，回答下列問題。



- (1) 上述中的□□應指哪一個國家？（2分）
- (2) 日後，直到誰發表著作，提出「公海」概念，進一步打破上述兩國壟斷海洋的狀況。（2分）

五、西元 1923 年臺北地方法院檢察官以違反禁止結社處分為由，對□□等人提出公訴，檢辯雙方對同化或自治、有無違憲等政治議題，展開激烈的辯論。最後其中十三人判處輕刑，其他等獲不起訴處分。請問：

- (1) 檢察官是以違反那一法令而將他們起訴？（2分）
- (2) 文中「□□等人」，請就你的歷史知識，寫出一位代表人物（2分）

臺中區國立高級中學 101 學年度
大學入學指定科目考試第二次聯合模擬考
歷史考科詳解

第壹部分：選擇題

一、單選題

1. 參考答案：(A)

試題解析：俄侵略土耳其，英法出兵助土耳其，薩丁尼亞為達統一，爭取英法同情與支持亦加入，為克里米亞戰爭之主要交戰國家，第二次俄土戰爭，是英與奧反俄侵略土耳其，因此不適合。

2. 參考答案：(A)

試題解析：開港通商後，茶出口值占總出口值一半以上，而茶又俗稱為白金。

3. 參考答案：(D)

試題解析：伊拉斯莫斯觀念雖影響馬丁路德，但爭議點在於他不認同其「革命」（指成立新教派），他僅想從事體制內「改革」。因此並非(A)(B)(C)所述。

4. 參考答案：(D)

試題解析：東漢張機提出「辯證論治」的方法。

5. 參考答案：(B)

試題解析：(B)美國皆是後來才參戰，且未波及本土。

6. 參考答案：(A)

試題解析：道光年間，鴉片大量走私進入中國，造成白銀大量外流，白銀的價格因而上升。因納稅一律繳納銀兩，故一定要將銅錢換成白銀。當白銀減少，人民需支出的銅錢就變多了，等於變相稅款加多。

7. 參考答案：(A)

試題解析：依五行相勝理論，夏代為木德、商代即為金德、周代即為火德、秦代即為水德、漢代即為土德。

8. 參考答案：(D)

9. 參考答案：(D)

試題解析：核能發電所排放二氧化碳量最少。

10. 參考答案：(C)

試題解析：該行動應為十字軍東征，本題重點在政、教分向信眾與人民徵稅，因此王權藉此提升，亦有助日後近代民族國家形成。

11. 參考答案：(B)

試題解析：明、清之後人口過剩，勞力變得廉價，就不熱衷發明節省勞力的器具了。

12. 參考答案：(B)

試題解析：北魏孝文帝時遷都洛陽，實施全面漢化，鞏固統治北方的基礎，但卻造成北方鮮卑人在文化上的差異，雙方裂痕日深，終於在孝明帝時爆發六鎮之亂。

13. 參考答案：(B)
試題解析：日方高壓的理蕃政策、官吏統治手段殘暴、義務勞動的負擔過重是霧社事件爆發的主因。
14. 參考答案：(D)
試題解析：宋代庶民文化興起，庶民消費能力大增。飲茶也成為庶民生活重心。
15. 參考答案：(B)
試題解析：根據題幹都鐸、金雀花王朝、1485 年等關鍵詞，推斷應為英法百年戰爭後的英國內戰，薔薇（玫瑰）戰爭，約克與蘭開斯特家族二大家族對抗，理查三世即約克王朝的最後一任國王，此內戰造成貴族死傷慘烈，也促使日後都鐸王朝空前高漲的王權。
16. 參考答案：(D)
試題解析：(A)拿破崙的時代為 1790 年代～1814 年 (B) 1858 英國正式併吞印度，派總督管理 (C)步步驚心為雍正皇帝爭權，且其一生為 1678～1735 年 (D) 1684～1860 年。
17. 參考答案：(B)
試題解析：1971 年中美乒乓球外交，雙方關係開始破冰，而有尼克森 1972 年親訪北京。
18. 參考答案：(B)
試題解析：宋朝的農業發展特點為：「耕地面積不斷擴大，一些地區的農田水利也得到興修，農業生產技術和農具有較大的改進，出現了適合於深耕的圓頭、尖頭犁鏵。北方的小麥等農作物傳到南方，南方的許多優良稻種也傳到了北方。勞動人民在山坡上開出了梯田，在江海岸邊沙淤地上開出了沙田，南方還開闢了湖田。」。
19. 參考答案：(B)
試題解析：(A)劉銘傳 (C) 1898 年 9 月總督府設土地調查局開始調查，為總督兒玉源太郎任內 (D)自耕農比例增加，地主仍可保留土地。
20. 參考答案：(C)
21. 參考答案：(C)
試題解析：(C)奧國為日耳曼人統治，但境內卻多是斯拉夫民族。
22. 參考答案：(D)
試題解析：唐太宗任內出現開國之初的盛世，史稱「貞觀之治」，平定東突厥後，西北許多邊疆民族向太宗上尊號稱「天可汗」，尊為國際盟主，當時參與天可汗體系的國家以漠北及西域諸國為主。
23. 參考答案：(B)
試題解析：查士丁尼強調君權神授，並將東方專制精神加入，並興建聖索菲亞教堂，以媲美所羅門王興建耶和華聖殿。
24. 參考答案：(B)
試題解析：「桃園三結義」體現了異姓兄弟互相幫助的友誼。
25. 參考答案：(C)
試題解析：解題關鍵為朝代末年仍變更鈔法，濫發紙幣，造成物價飛騰，這只有元朝才有此一現象。
26. 參考答案：(C)
試題解析：在西周封建社會的階層裡，平民當中的「國人」有參政權及服兵役義務，而一般的庶人雖以農工商為業，但工商業是由貴族經營，平民只能為其效勞，故曰「工商食官」。

27. 參考答案：(B)

試題解析：(A)臺灣信仰神道教者很少 (B)日本在臺灣實施差別待遇的教育方式，臺人就學率遠低於日人，尤其女性更低 (C)臺灣人有工作者甚多，只是在薪水、職位等方面仍倍受歧視 (D)當時臺人尚未享有醫療照護保險。

28. 參考答案：(D)

試題解析：利邦上尉任職於荷蘭東印度公司，荷蘭占領台灣南部，與平埔族接觸高於高山族，而南部為西拉雅族，從鹿皮貿易亦可看出。

29. 參考答案：(B)

試題解析：兩次學生運動即是東漢桓帝、靈帝時的「黨錮之禍」，末年的民間武裝暴動則為「黃巾之亂」。身為朝廷命官的應為李膺。郭泰為太學生，竇憲為外戚，張角為黃巾之亂起義者。

30. 參考答案：(D)

試題解析：朝廷賦予地方州郡首長如刺史、州牧掌兵大權，以致漢末州郡都擁有自己的武力，形成州郡割據的局面。

31. 參考答案：(C)

試題解析：早期前往美國謀生的華工多為男性，且多將家人留在家鄉，再加上排華法案影響下，家人無法赴美，之後排華法案廢除，加上結婚生子成家之下，男女漸趨平均。

32. 參考答案：(D)

試題解析：法案甲：1882年「排華法案」。
法案乙：1880年「中美續修條約」。
法案丙：1866年「沿海各省招工章程」。
法案丁：1943年「麥諾森法案」即廢除排華法案。

33. 參考答案：(B)

34. 參考答案：(B)

試題解析：文中「台民喜亂」，「方慶削平，又圖復起」，「任征不平」等可知台灣民亂頻繁，而台民亂多受消極治台、渡台禁令影響造成羅漢腳多社會不安，官兵三年調返造成吏治不良等影響。

35. 參考答案：(B)

試題解析：「辛亥八月」發生於1911，而題幹所言應為1915年左右間所發生之事，其強烈抨擊之事為袁氏帝制迷夢，「約法」是指中華民國約法。

36. 參考答案：(C)

試題解析：催促制定憲法是指洪憲帝制，將民主共和改成君主立憲。

二、多選題

37. 參考答案：(B)(C)

試題解析：(A)資料一：出自郭輝譯《巴達維亞城日記》第一冊，從占領台窩灣（安平）可知為荷蘭人，目的為貿易利益 (D)中國雖行海禁，但外國人仍可透過走私貿易或朝貢貿易與中國貿易 (E)資料二出自兵部題行「條陳彭沽後事宜，殘橋二」指明帝國憂倭寇、荷、西等外夷聯合，故以台為誘餌，引外人至台，欲使夷寇相殘，坐收漁翁之利。

38. 參考答案：(A)(E)

試題解析：(B)開花結果是美國獨立革命 (C)法國工業未超越英 (D)英有加入歐盟。

39. 參考答案：(B)(D)

試題解析：(A)伊斯蘭教為一神教，故阿拉是唯主 (C) 622 年是穆罕默德由麥加逃亡至麥地那的時間 (E)雖受法蘭克人阻撓，但仍佔有西班牙一帶，疆域仍跨有歐亞非三洲。

40. 參考答案：(B)(C)

試題解析：(A)自強運動對於中國之現代化基礎建設仍有些貢獻 (D)自強運動失敗的原因之一即為中央與地方未能協調一致，多是各自為政 (E)自強運動無立憲、開國會、君民合治之議，僅民間少數知識份子如馮桂芬、鄭觀應、王韜等人倡議。

第貳部分：非選擇題

一、參考答案：(1)科舉（貢舉也給分）

(2)太學三舍法（學校教育）

試題解析：王安石設立「太學三舍法」，目的欲漸次以學校教育取代貢舉。

二、參考答案：(1)列寧，托洛斯基

(2)五年經濟計畫

三、參考答案：甲為關中郡姓，丁為僑姓

試題解析：甲、乙、丙、丁、戊分別為關中郡姓、山東郡姓、國姓、僑姓及吳姓。

四、參考答案：(1)葡萄牙

(2)格魯秀斯（另譯：格勞秀斯）

試題解析：此線為 1494 年教皇協調西、葡所劃定的「教皇子午線」，故□應指葡萄牙。其次，直到荷蘭籍格魯秀斯《戰爭與和平法》，首度提出現代國際法概念，其中「公海」概念亦包含在內，荷蘭也成為繼西、葡後，參與海上競逐的國家。

五、參考答案：(1)《治安警察法》

(2)蔣渭水、蔡培火（任回答其中一位即可）